

令和 6 年度

高等学校入学者選抜学力検査問題

社 会

注 意 事 項

- 1 問題は、1 ページから 7 ページまであります。
- 2 解答は、すべて解答用紙に記入しなさい。

1 次の略年表を見て、(1)~(8)の問いに答えなさい。(18点)

時代	飛鳥	奈良	平安	鎌倉	室町	安土桃山	江戸	明治	大正	昭和	平成	
日本のできごと	① 推古天皇が即位する	② 聖徳太子(厩戸皇子、厩戸王)らが行った政治改革で定められた、天皇の命令に従うことなどの役人の心構えを示した法は何とよばれるか。その名称を書きなさい。また、この法が定められた時代より前のできごとを、次のア~エの中から1つ選び、記号で答えなさい。 ア ローマ教皇が十字軍の派遣を呼びかけた。 イ シャカがインドで仏教を開いた。 ウ フビライ・ハンが都を大都に移した。 エ スペインがインカ帝国をほろぼした。	③ 中尊寺金色堂が建てられる	鎌倉幕府がほろびる	銀閣が建てられる	④ 安土城が築かれる	⑤ 江戸幕府が成立する	明治維新が始まる	⑥ 関東大震災がおこる	⑦ 世界恐慌の影響を受ける	民主化の改革が行われる	バブル経済が崩壊する

(1) 傍線部①のもとで聖徳太子(厩戸皇子、厩戸王)らが行った政治改革で定められた、天皇の命令に従うことなどの役人の心構えを示した法は何とよばれるか。その名称を書きなさい。また、この法が定められた時代より前のできごとを、次のア~エの中から1つ選び、記号で答えなさい。

- ア ローマ教皇が十字軍の派遣を呼びかけた。 イ シャカがインドで仏教を開いた。
ウ フビライ・ハンが都を大都に移した。 エ スペインがインカ帝国をほろぼした。

(2) 傍線部②は、朝廷が税収を増やそうとして定めたものである。表1は、奈良時代の主な税と、その課税対象を示している。表1から考えられる、傍線部②を定めることによって朝廷の税収が増加する理由を、傍線部②による開墾の状況の変化に関連付けて、簡単に書きなさい。

表1

税	課税対象
租	でんち 田地
調	17~65歳の男子
庸	21~65歳の男子

(3) 図1は、傍線部③の内部を撮影した写真である。次の□の中の文は、傍線部③が建てられたころに東北地方を支配していた勢力についてまとめたものである。文中の(㉞)、(㉟)に当てはまる語として正しい組み合わせを、下のア~エの中から1つ選び、記号で答えなさい。また、文中の(㉠)に当てはまる人物名を書きなさい。

図1

(著作権上の都合により省略)

11世紀後半の大きな戦乱を経て東北地方を支配した奥州(㉞)氏は、(㉟)を拠点として、金や馬などの産物や、北方との交易によって栄えたが、12世紀後半、(㉠)によってほろぼされた。(㉠)はその後、朝廷から征夷大將軍に任命された。

- ア ㉞ 伊達 ㉟ 多賀城 イ ㉞ 伊達 ㉟ 平泉
ウ ㉞ 藤原 ㉟ 多賀城 エ ㉞ 藤原 ㉟ 平泉

(4) 資料1は、織田信長が傍線部④の城下町に出した法令の一部を要約したものである。織田信長が資料1の政策を行った、城下町を発展させる上でのねらいを、資料1から読み取れる、座に対する政策に関連付けて、簡単に書きなさい。

資料1

安土山下町(城下町)に定める
一、この町を楽市とした以上は、座の特権などは認めない。
一、往来する商人は、上海道(かみかいどう)を通行せず、必ずこの町で宿をとること。
一、領国内で徳政を行っても、この町では行わない。
(「安土山下町中掟書」より、一部を要約)

(5) 傍線部⑤の対外政策に関する a, b の問いに答えなさい。

a 傍線部⑤は、17世紀前半に鎖国の体制を固めたが、いくつかの藩は外交や貿易を許されていた。鎖国の体制のもとで、朝鮮との外交や貿易を担っていた藩を、次のア～エの中から1つ選び、記号で答えなさい。

ア 薩摩藩 イ 長州藩 ウ 対馬藩 エ 土佐藩

b 蘭学者の渡辺崋山と高野長英は、傍線部⑤の対外政策を批判し、幕府によって処罰された。渡辺崋山と高野長英が批判した、傍線部⑤の対外政策として適切なものを、次のア～エの中から1つ選び、記号で答えなさい。

ア 日米和親条約を結び、港を開いた。 イ 日米修好通商条約を結び、貿易を認めた。
ウ 禁教令を出し、キリスト教を禁じた。 エ 異国船打私令を出し、外国船を砲撃させた。

(6) 略年表中の㊸の期間に関する a, b の問いに答えなさい。

a 次のア～ウは、㊸の期間におこった日本のできごとについて述べた文である。ア～ウを時代の古い順に並べ、記号で答えなさい。

ア シベリア出兵を見こした米の買い占めから米の値段が上がり、米騒動がおこった。
イ 人々が銀行に殺到して預金を引き出し、銀行の休業や倒産が相次ぐ金融恐慌がおこった。
ウ ヨーロッパでおこった第一次世界大戦の影響で、日本では大戦景気が始まった。

b ㊸の期間に普通選挙法が成立した。その普通選挙法と同じ年に制定された、共産主義や社会運動を取り締まりの対象とした法律は何とよばれるか。その名称を書きなさい。

(7) 傍線部⑥は1920年代後半に始

まった。表2は、1925年、1933年、1938年における、アメリカ、ソ連、ドイツの、鉄鋼生産量を示している。表2の中のア～ウ

表2

	鉄鋼生産量(十万t)		
	1925年	1933年	1938年
ア	461	236	288
イ	123	84	205
ウ	19	70	180

注「近代国際経済要覧」により作成。

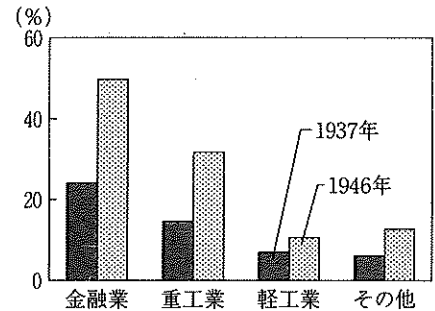
資料2

市場経済 市場を通じて物やサービスの取り引きが自由に行われる。
計画経済 政府が作った計画に従って生産・流通・販売などの経済活動が行われる。

いずれかを表している。資料2は、経済のしくみの違いについてまとめたものである。資料2を参考にして、表2のア～ウの中から、ソ連に当たるものを1つ選び、記号で答えなさい。また、そのように判断できる理由を、資料2から読み取れる、ソ連が採用していた経済のしくみに関連付けて、簡単に書きなさい。

(8) 傍線部⑦において、1946年に、財閥に対する改革が本格的に始まった。グラフ1は、日中戦争が始まった1937年と、財閥に対する改革が本格的に始まる直前の1946年における、全国の会社の資本金に占める、四大財閥(三井・三菱・住友・安田)傘下の会社の割合を、業種別に表示している。1946年に、財閥に対してどのような改革が行われたか。その改革を、グラフ1から考えられる、改革が行われた理由が分かるように、簡単に書きなさい。

グラフ1

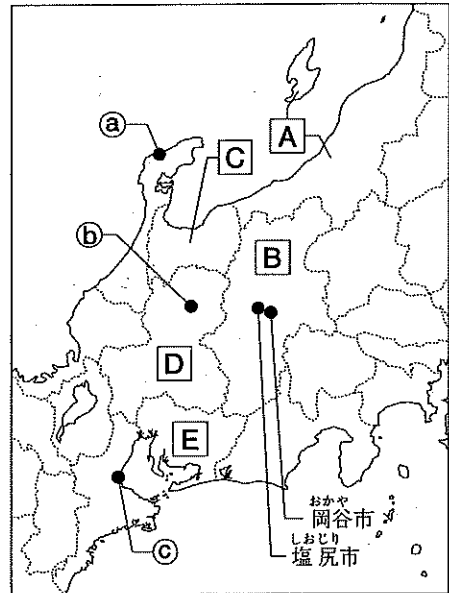


注「近現代日本経済史要覧」により作成。

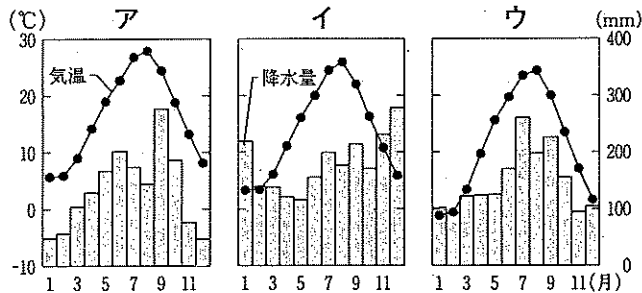
2 次の(1)~(6)の問いに答えなさい。なお、地図1の中のA~Eは県を、a~cは都市を、それぞれ示している。(12点)

- (1) 中部地方にある、標高3000m前後の山々が連なる飛騨、木曾、赤石の3つの山脈の、ヨーロッパの山脈にちなんだ総称は何か。その総称を書きなさい。
- (2) グラフ2のア~ウは、地図1のa~cのいずれかの都市の、気温と降水量を示したものである。グラフ2のア~ウの中から、cの都市の、気温と降水量を示したものを1つ選び、記号で答えなさい。

地図1



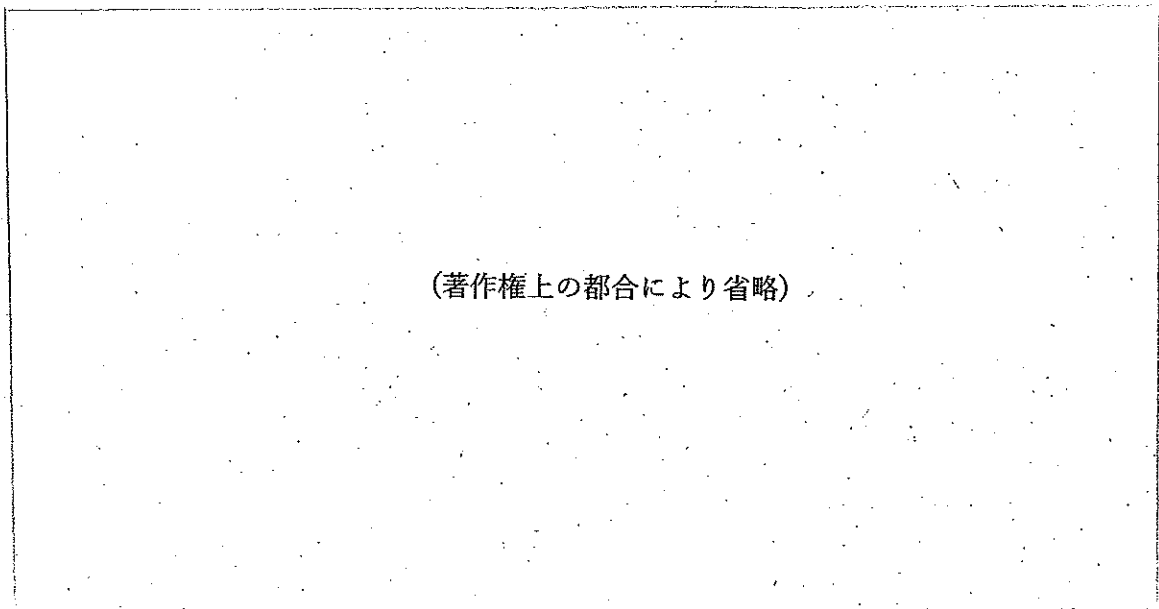
グラフ2



注「令和5年 理科年表」により作成。

- (3) 図2は、地図1の塩尻市と岡谷市の、一部の地域を示した地形図である。図2から読み取れることを述べた文として適切なものを、下のア~オの中から2つ選び、記号で答えなさい。

図2



(著作権上の都合により省略)

注 国土地理院の電子地形図(タイル)により作成。

- ア は、岡谷IC(インターチェンジ)から見て北側に位置する。
- イ の付近は、老人ホームの付近に比べて標高が低い。
- ウ の付近は、郵便局の付近に比べて建物の配置がまばらである。
- エ の付近には、広葉樹林が広がっている。
- オ の付近には、等高線に沿った道路が見られる。

(4) **C** では、四大公害病の1つに数えられる公害病が発生した。その公害病の原因として最も適切なものを、次のア～エの中から1つ選び、記号で答えなさい。また、**C** の県名を書きなさい。

- ア 騒音 イ 水質汚濁 ウ 悪臭 エ 大気汚染

(5) 表3は、2019年における、表3

A～**D**の食料品、化学工業、電子部品、輸送用機械の工業出荷額を示している。表3の中のア～エは、**A**～**D**のいずれかを表している。ア～エの中から、**A**に当たるものを1つ選び、記号で答えなさい。

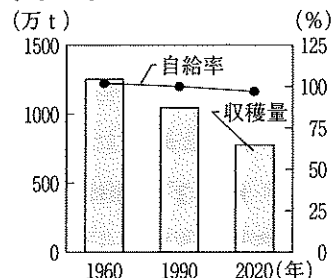
	工業出荷額(億円)	工業出荷額の内訳(億円)			
		食料品	化学工業	電子部品	輸送用機械
ア	62,194	5,916	948	7,385	4,040
イ	59,896	3,817	2,814	1,661	11,596
ウ	50,113	8,185	6,403	3,379	2,450
エ	39,411	1,557	7,781	3,272	1,584

注「データでみる県勢2023」により作成。

(6) 農業に関する a, b の問いに答えなさい。

a 中部地方では、様々な品種の稲が作付けされている。グラフ3は、1960年、1990年、2020年における、日本の米の、収穫量と自給率の推移を示している。グラフ3から、1960年から2020年における、日本の水稻の作付面積(田の面積のうち、実際に米を作る面積)は、どのように推移したと考えられるか。その推移を、グラフ3から考えられる、日本の米の国内消費量の変化に関連付けて、簡単に書きなさい。

グラフ3

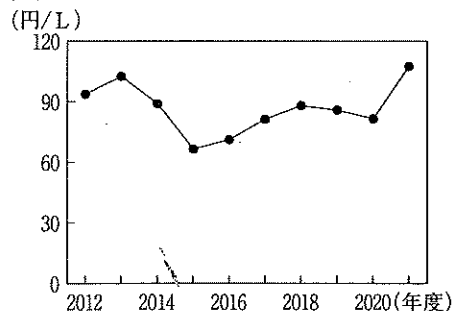


注「数字でみる日本の100年」などにより作成。

b **E** では、施設園芸がさかんである。施設園芸に関する①、②の問いに答えなさい。

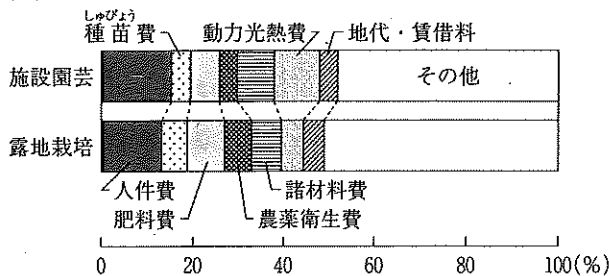
- ① 施設園芸では、施設を利用して作物の生育を調節する栽培方法がとられている。このうち、出荷時期を早める工夫をした栽培方法は何とよばれるか。その名称を書きなさい。
- ② 施設園芸には、露地栽培(屋外で施設を用いずに行う栽培)と比べて利点もあるが、課題もある。グラフ4は、2012年度から2021年度における、日本の農業で使用される燃料の価格の推移を示している。グラフ5は、2020年における、日本の、施設園芸と露地栽培の、農業経営費に占める経費別の割合を示している。グラフ4から考えられる、施設園芸の経営上の問題点を、グラフ5から読み取れることに関連付けて、簡単に書きなさい。

グラフ4



注1 農林水産省資料により作成。
注2 加温期間(11～4月)の平均価格。

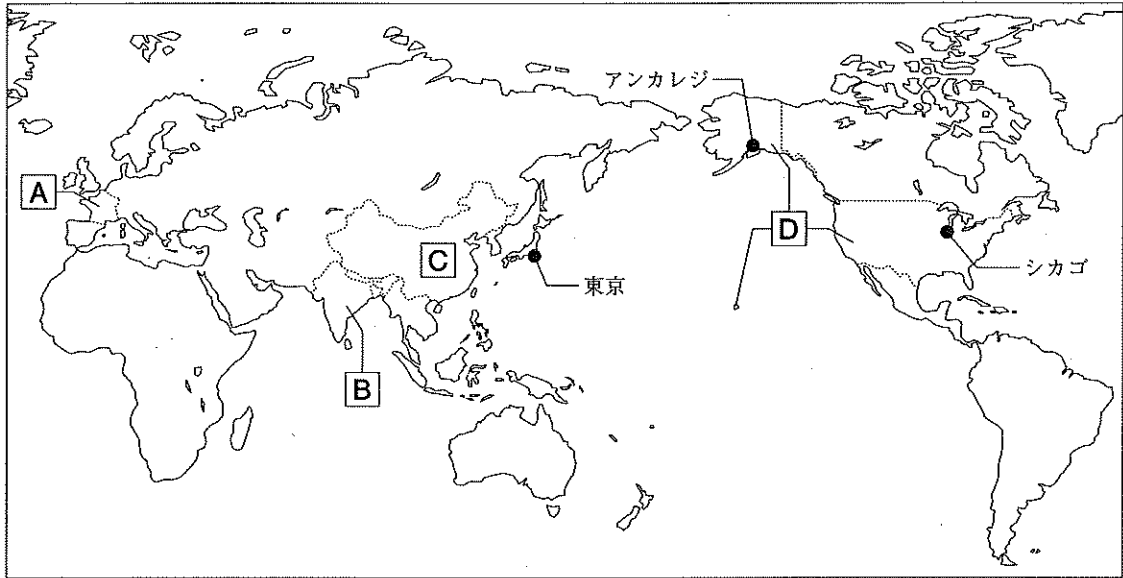
グラフ5



注1 農林水産省資料により作成。
注2 野菜の場合を示している。

3 次の(1)~(3)の問いに答えなさい。なお、地図2は、緯線と経線が直角に交わった地図であり、地図3は、シカゴを中心とし、シカゴからの距離と方位が正しい地図である。地図2の中の[A]~[D]は国を示している。(9点)

地図2

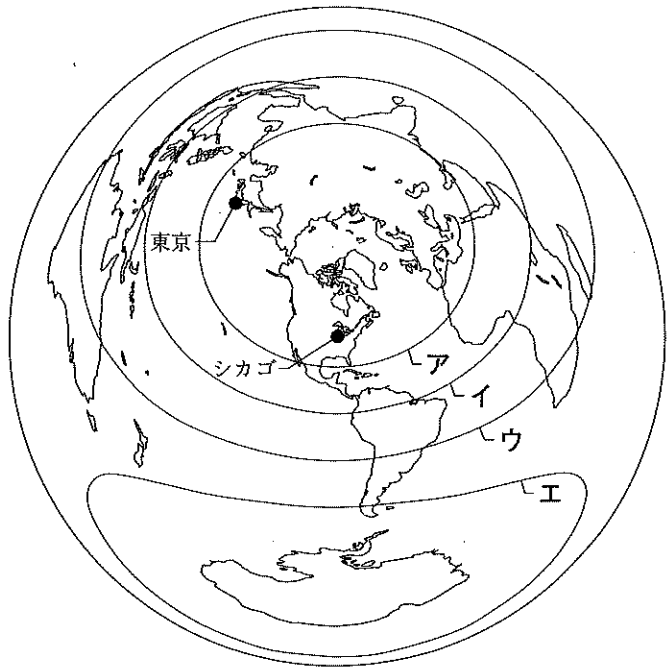


(1) 地図3に関するa, bの問いに答えなさい。

a 地図3の中のア~エは緯線を示している。ア~エの中で、赤道を示しているものを1つ選び、記号で答えなさい。

b シカゴから航空機で西に向かって出発し、向きを変えずに進んだとき、この航空機が北アメリカ大陸の次に通る大陸は、世界の六大陸のうちどの大陸か。その名称を書きなさい。

地図3



(2) 表4は、[A]~[D]と日本の、1990年、2000年、2010年、2020年における、1人当たりの国内総生産を示している。表4の中の㉠~㉤は、[A]~[D]のいずれかを表している。表4に関するa, bの問いに答えなさい。

a 表4の㉠に当たる国を、[A]~[D]の中から1つ選び、記号で答えなさい。また、その国名も書きなさい。

表4

	1人当たりの国内総生産(ドル)			
	1990年	2000年	2010年	2020年
㉠	369	442	1,351	1,910
㉡	318	959	4,550	10,409
㉢	21,866	22,416	40,676	39,055
㉣	23,889	36,330	48,651	63,531
日本	25,371	39,169	44,968	39,918

注 世界銀行資料により作成。

- b. 表4に示された国の国全体の経済力を比較するために、これらの国の国内総生産を求めたい。表4のほかに、次のア～エの統計資料があるとき、表4に加えて、ア～エの中のどの2つを用いれば求めることができるか。ア～エの中から2つ選び、記号で答えなさい。

ア 総面積 イ 国民総所得 ウ 人口密度 エ 生産年齢人口

- (3) **D**に関するa, bの問いに答えなさい。

- a 図3は**D**のアラスカ州にあるパイプラインを撮影した写真である。図3のパイプラインは、アラスカ州の北岸で採掘した原油を温めて、南岸へと流している。また、アラスカ州は多くの地域が冷帯や寒帯に属し、1年を通して凍っている永久凍土という土壌が広がっている。図3のパイプラインには、この自然環境を維持するための工夫が見られる。図3のパイプラインに見られる、この自然環境を維持するための工夫を、その工夫による効果が分かるように、簡単に書きなさい。

図3

(著作権上の都合により省略)

注「最新地理図表GEO四訂版」より。

- b 地図2のアンカレジは、航空機による国際貨物輸送の拠点になっている。航空機には、貨物や燃料などの重量を合計した総重量の最大値が設定されている。シカゴと東京を結ぶ貨物輸送を行う航空機は、アンカレジの空港を経由し給油を行うことにより、直行する場合と比べて、貨物の重量を増やすことができる。シカゴと東京を結ぶ貨物輸送を行う航空機が、アンカレジの空港を経由し給油を行うと、貨物の重量を増やすことができるのはなぜか。その理由を、地図2と地図3から読み取れる、アンカレジの位置の特徴に関連付けて、簡単に書きなさい。

4 次の(1)～(3)の問いに答えなさい。(11点)

- (1) 金融に関するa, bの問いに答えなさい。

- a 次の [] の中の文は、金融機関が収入を得るしくみについてまとめたものである。文中の(㊸)に当てはまる語を書きなさい。

銀行は、融資する相手から返済にあたって(㊸)を受け取り、預金者に(㊹)を支払う。その(㊸)の差額が銀行の収入になる。

- b 日本の中央銀行である日本銀行が取り引きを行う対象として正しいものを、次のア～エの中から2つ選び、記号で答えなさい。

ア 銀行 イ 工場 ウ 家計 エ 政府

- (2) 国際連合に関するa, bの問いに答えなさい。

- a 国際連合は、経済、社会、文化、人権などのさまざまな分野で、人々の暮らしを向上させる努力を行っている。資料3は、1948年に国際連合で採択された、各国の人権保障の基準になっているものの一部である。この、国際連合で採択されたものは何とよばれるか。その名称を書きなさい。

資料3

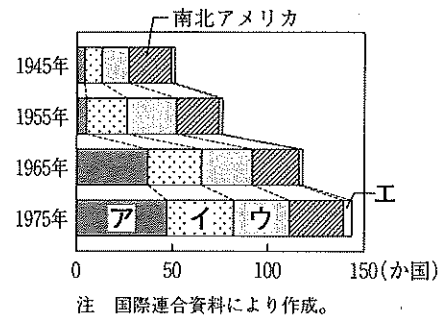
第1条

すべての人間は、生れながらにして自由であり、かつ、尊厳と権利について平等である。人間は、理性と良心とを授けられており、互いに同胞の精神をもって行動しなければならない。

[次のページに続く]

b グラフ6は、1945年、1955年、1965年、1975年の、国際連合の地域別の加盟国数を示している。グラフ6の中のア～エは、アジア、アフリカ、ヨーロッパ、オセアニアのいずれかを表している。グラフ6から、1945年と比べて、1975年の国際連合の加盟国数は、すべての地域で増加していることが分かる。アジアとアフリカの加盟国数の増加に共通する理由となる、第二次世界大戦後のアジアとアフリカの動きを、その動きにつながる、アジアとアフリカの歴史的な背景が分かるように、簡単に書きなさい。また、ア～エの中から、アジアに当たるものを1つ選び、記号で答えなさい。

グラフ6



(3) 地方議会に関する a, b の問いに答えなさい。

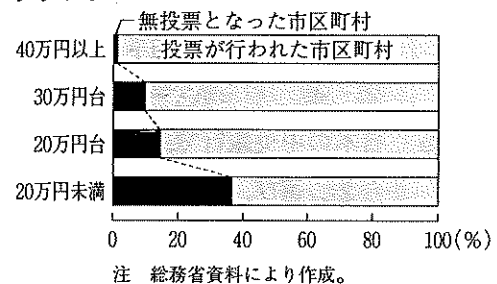
- a 地方議会は、地方公共団体の予算の決定や、地方公共団体独自の法(ルール)の制定などを行う。地方議会が制定する、その地域だけで適用される地方公共団体独自の法は、一般に何とよばれるか。その名称を書きなさい。
- b 地方議会は、地域の多様な意見を集約し、さまざまな立場から地域社会のあり方を議論することが求められている。近年、地方議会議員選挙において、立候補者数が定数を超えず、無投票となることが増えている。表5は、地方議会議員選挙が無投票となった市区町村の一部で行われている取り組みを示している。グラフ7は、2019年の、統一地方選挙(全国で期日を統一して行う、地方公共団体の、首長と議会の議員の選挙)を実施した市区町村における、議員報酬の平均月額別の、無投票となった市区町村の割合を示している。グラフ8は、2019年の、統一地方選挙を実施した市区町村における、議員の平均年齢別の、無投票となった市区町村の割合を示している。地方議会議員選挙が無投票となることを防ぐ上での、市区町村が表5の取り組みを行うねらいを、グラフ7とグラフ8のそれぞれから読み取れることと、地方議会議員にとっての表5の取り組みの利点に関連付けて、70字程度で書きなさい。

表5

取り組み	内容
通年会期制の導入	数週間にわたる定例会を年4回開いて審議を行っていたが、1年を通して開会する通年会期とし、予定が立てやすいように、特定の曜日や時間に設定した定例日に審議を行うようにした。
夜間・休日議会の実施	平日の昼間に行っていた審議を、会社員などと兼業する議員が参加しやすい夜間や休日に実施するようになった。

注 総務省資料により作成。

グラフ7



グラフ8

