

【例題】 基礎能力試験

- 基礎能力試験では、以下のような問題が出題されます。
受験の検討や準備にあたり、参考にしてください。

<知識分野>

近年の各国の政治事情に関する次の記述ア～エのうちには妥当なものが二つある。それらはどれか。

- ア. アメリカでは、トランプ大統領がオバマ前大統領の政策を見直して、地球温暖化対策のためのパリ協定を遵守する方針を示し、また、公的医療保険への支出拡大などを進めることとした。
- イ. イギリスでは、EUからの離脱の是非を問う国民投票が行われた結果、EU離脱を支持する票が過半数を占めた。その後発足したメイ政権はEUとの離脱交渉を始めた。
- ウ. ドイツでは、メルケル政権が2015年以降急増した中東からの難民に対して国境管理を厳格化するなど、難民の受入れには他のEU加盟国よりも消極的な政策を採ってきた。
- エ. 中国では、習政権が構造改革により投資・輸出主導の経済成長から消費・内需主導の経済成長に転換を図っている。また、中国からヨーロッパに至る地域の経済圏の構築を目指す「一带一路」構想を推進している。

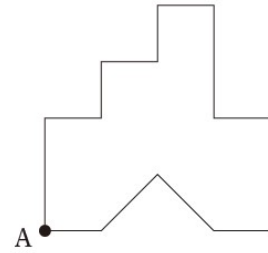
- 1. ア, ウ
- 2. ア, エ
- 3. イ, ウ
- 4. イ, エ
- 5. ウ, エ

(正答：4)

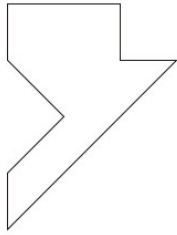
<知能分野>

●判断推理

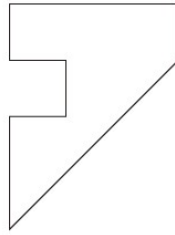
1 辺が 4 cm の正方形の紙から、1 辺が 1 cm の正方形を五つと斜辺が 2 cm の直角二等辺三角形を一つ切り取ったところ、右図のようになった。この紙を、頂点 A を通る元の正方形の対角線の位置で折ったとき、できる図形の輪郭として妥当なのはどれか。



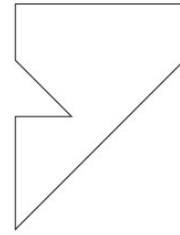
1.




2.



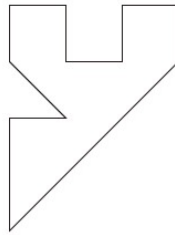
3.



4.



5.



(正答 : 3)

●数的推理

1 から 3 までの数字を各桁に使うことのできる 1 桁から 4 桁までの整数は全部で何個あるか。

ただし、1111 のように、同じ数字を重複して使うことができるものとする。

- 1. 105 個
- 2. 112 個
- 3. 120 個
- 4. 129 個
- 5. 131 個

(正答 : 3)